

**START
HER**

Sandt eller falsk?

$$9 \cdot 3 = 26$$
$$6 \cdot 6 = 36$$

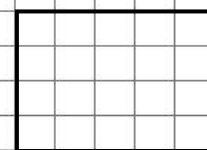
$$5 \text{ æg} = 15 \text{ kr.}$$

$$3 \text{ æg} = _ \text{ kr.}$$

Gå på stedet
med høje
knæløftninger
i 30 sekunder.



Figurens areal?
(i tern)



Find 3 tal, hvor
3 går op (se tip):

177 114 112
25 166 75

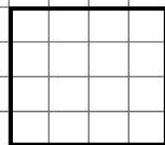
Sandt eller falsk?

$$\frac{9}{8} > 1$$

Tæl baglæns

fra 205 til
198

Figurens areal?
(i tern)



4. klasse, level 2

2-3 spillere. 1 terning.

Kast terningen; spilleren med det højeste antal øjne vinder og løser næste felt.

Alle felter løses netop en gang.

Bevægelsesfelter løses af alle spillere på en gang.

Vinderen er den, der løser flest felter.

God fornøjelse
Trine E.

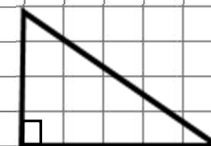
Tip: 3 går op i et tal, når 3 går op i tværsommen (T+S). Fortsæt til et ciffer.

T+S af 34 er $3+4=7$ (3 går ikke op i 34)

T+S af 219 er $2+1+9=12=1+2=3$ (3 går op i 219)

**Sig 4-
tabellen
op til 40!**

Figurens areal?
(i tern)



Find 2 tal, hvor
3 går op (se tip):

187 74 312
45 266 95

Forfatter og udgiver:

trine-evald.dk

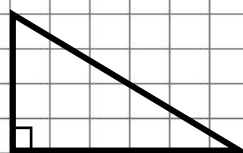
"klasse4Level2.pdf"

**SLUT
HER**

$$2 \text{ is} = 12 \text{ kr.}$$

$$3 \text{ is} = _ \text{ kr.}$$

Figurens areal?
(i tern)



Sandt eller falsk?

$$\frac{5}{6} > 1$$

Sandt eller falsk?

$$3 \cdot 7 = 21$$
$$6 \cdot 7 = 42$$

3 klap over
hoved
3 klap under
hvert knæ.
4 runder.



Find 4 tal, hvor
3 går op (se tip):

327 714 112
45 76 663



Løb på
stedet.
20 sekunder.