

**START
HER**

Sandt eller falsk?

$$11 + 4 + 6 = 21$$

1 is = 5 kr.

3 is = __ kr.

Hvilket tal mangler?

$$8 - 10 - 12 - __ - 16$$

2 æg = 3 kr.

1 æg = __ kr.

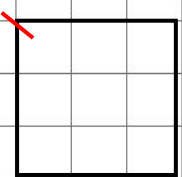
Gå på stedet
imens I
synger
(fx en sang
om vejret)



Tæl baglæns

fra 102
til 97

Omkreds?



Sandt eller falsk?

$$10 + 100 + 6 = 116$$

2. klasse, level 4

2-3 spillere. 1 terning.

Kast terningen; spilleren med det højeste antal øjne vinder og løser næste felt.

Alle felter løses netop en gang.

Bevægelsesfelter løses af alle spillere på en gang.

Vinderen er den, der løser flest felter.

Find 3 lige tal:

31 36 33
37 34
38

Tæl baglæns

fra 42 til 35

God fornøjelse
Trine E.

2 æg = 4 kr.

1 æg = __ kr.

Find 5 ulige tal:

32 42
31 35 41
145 45

Klap højt.
Klap lavt.
Klap til højre
Klap til venstre.
4 runder.



**SLUT
HER**

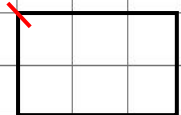
Hvilke tal mangler?

$$8 - 12 - __ - __ - 24$$

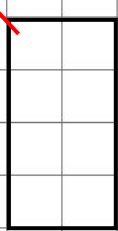
Hvilke tal mangler?

$$9 - 12 - __ - __ - 21$$

Omkreds?



Omkreds?



Forfatter og udgiver:

trine-evald.dk

"klasse2Level3.pdf"

Hop på
stedet.
20 sekunde.

