


**START
HER**

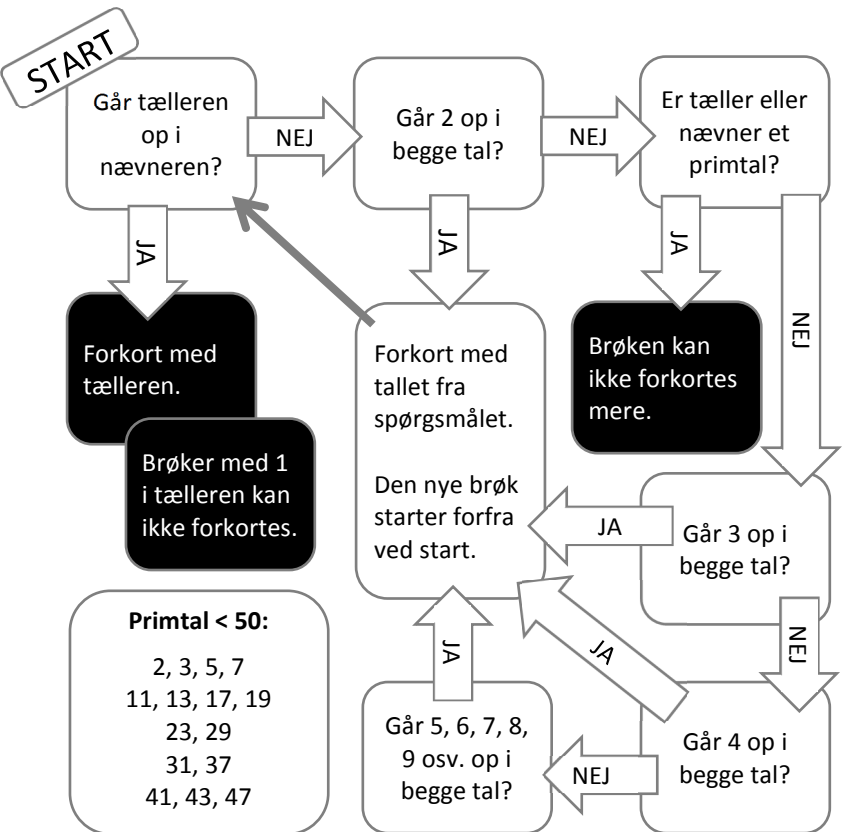
$$\frac{4}{16}$$

$$\frac{4}{10}$$

$$\frac{12}{14}$$



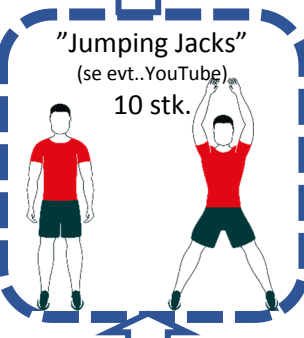
Brug hjælpen i midten.
Noget lignende kan printes
fra trine-evald.dk under
matematik og hjælpeark.



**SLUT
HER**

$$\frac{3}{14}$$

$$\frac{12}{34}$$



$$\frac{8}{12}$$

$$\frac{6}{36}$$

$$\frac{14}{21}$$

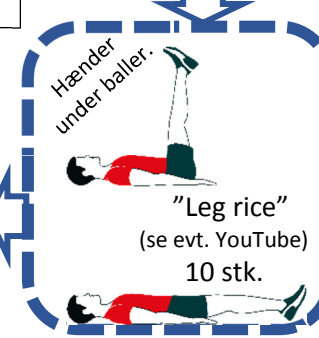
$$\frac{3}{11}$$

$$\frac{6}{8}$$

$$\frac{16}{20}$$

$$\frac{10}{25}$$

$$\frac{21}{27}$$



Forkort brøker, level 2

2 spillere. 2 terninger.
Hver spiller slår og ganger øjnene.
Elevnen med det højeste resultat,
løser næste felt.

2 point mulige pr. brøk. 1 point for at
forkorte med mundtlig gennemgang.
1 point for at regne rigtigt. Lav selv
flere regler.

Begge laver bevægelserne.
God fornøjelse.

En streg pr. point, femte streg på skrå:
II = 2 III = 3 IIII = 4 IIII = 5 IIII IIII = 12

Elev 1: _____

Elev 2: _____