

**START
HER**

Sandt eller falsk?

$$11 + 4 + 6 = 21$$

1 is = 5 kr.
3 is = __ kr.

Hvilket tal mangler?

$$8 - 10 - 12 - __ - 16$$

2 æg = 3 kr.
1 æg = __ kr.

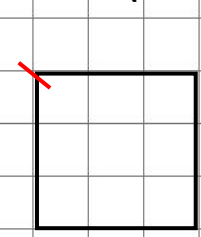
Gå på stedet
imens I
synger
(fx en sang
om vejret)



Tæl baglæns

fra 102
til 97

Omkreds (i tern)?



Sandt eller falsk?

$$10 + 100 + 6 = 116$$

2. klasse, level 4

2-3 spillere.
Slå sten-saks-papir om, hvem
der skal løse det næste felt.

Lav selv flere regler: får man
point? Hvad sker, der hvis
man svarer forkert?

Alle laver bevægelserne.

God fornøjelse.

Find 3 lige tal:

31 36 33
37 34
38

Tæl baglæns

fra 42 til 35

2 æg = 4 kr.
1 æg = __ kr.

Find 5 ulige tal:

32 42
31 35 41
145 45

**SLUT
HER**

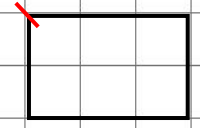
Hvilke tal mangler?

$$8 - 12 - __ - __ - 24$$

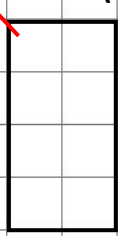
Hvilke tal mangler?

$$9 - 12 - __ - __ - 21$$

Omkreds (i tern)?



Omkreds (i tern)?



Hop på
stedet.
20 sekunde.



Klap højt.
Klav lavt.
Klav til højre
Klav til venstre.
4 runder.

